


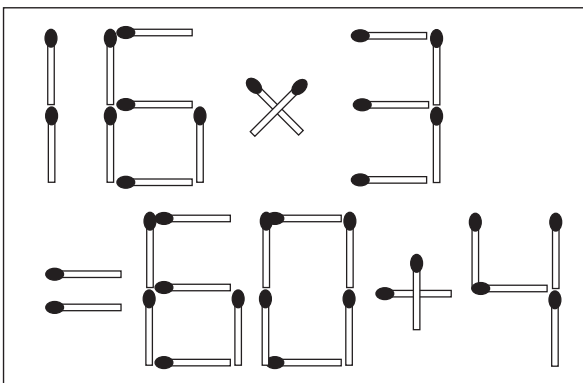
Q
 (1)~(4)の展開図のうち、組み立てた時に右上の立方体になるのは、どれでしょう？ 複数ある時は、すべての番号を教えてください。

2024年9月22日掲載



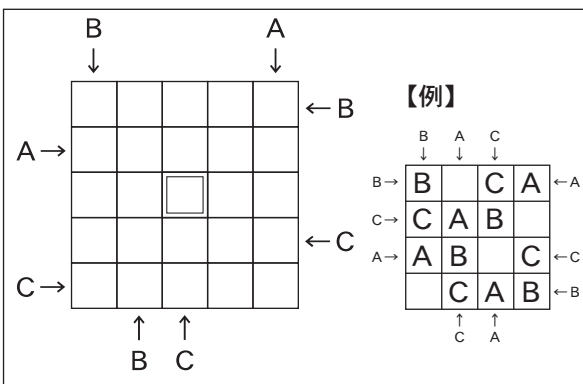
Q
 6面に6つのアルファベットを書き込んだ、まったく同じサイコロを4つ作りました。これを図のようにならべ、矢印の方向から見た時、簡単な英単語が読めます。なんと読めるのでしょうか？

2024年10月13日掲載



Q
 図のように、マッチ棒で「 $16 \times 3 = 60 + 4$ 」という間違った式ができています。マッチ棒を1本だけ動かして、正しい等式を成立させたいと思います。さて、どのような等式にすればいいでしょう。その式を教えてください。

2024年10月20日掲載



Q
 右の例のように、タテ、ヨコの各列にA、B、Cをひとつずつ入れます。ワクの外の記号はその方向から見た時に、一番手前に見える記号です。それをヒントに、ABCの位置を推理し、二重枠のマスには、アルファベットの何が入るか教えてください。

2024年10月27日掲載